

Navodila za delo:

1. Poglej video posnetek o Kanadi

<https://www.youtube.com/watch?v=R-MvwRoC1qo>

2. Preberi tekst v SDZ, str. 91 – 94

3. V zvezek prepisi tekst iz pdf datoteke in odgovori na vprašanja na koncu.

Pri vodni poti po reki Sv. Lovrenca si pomagaj s posnetkom

<https://www.youtube.com/watch?v=zHgqsFae-LY>

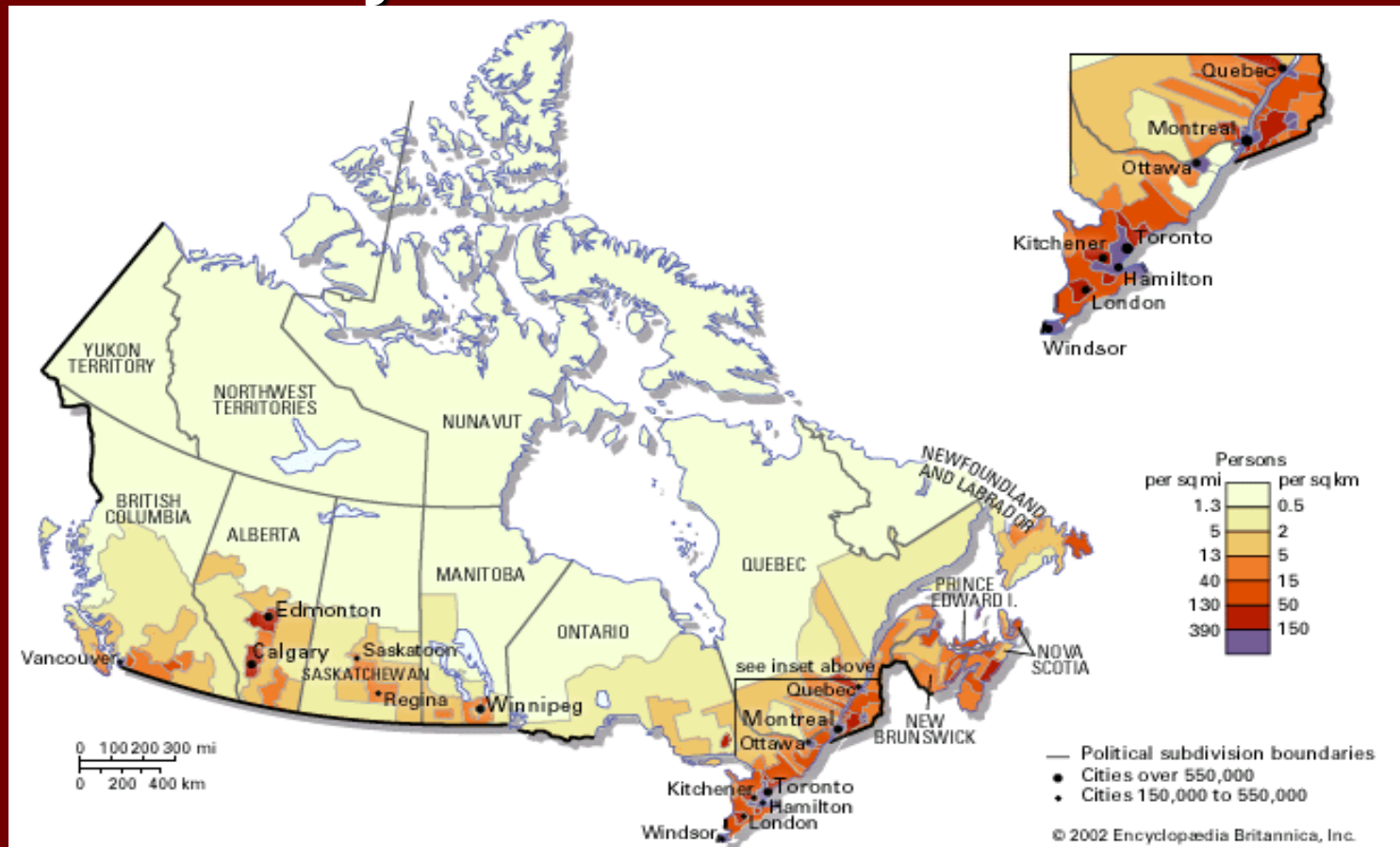
4. Reši nalogo 40, SDZ str. 94

10 učencev bom v sredo zjutraj po elektronski pošti prosila, da mi do 15. ure pošljejo dokaze o delu in podajo povratno informacijo.

A stylized representation of the Canadian flag. It features a white square in the center, flanked by two vertical red bars. A large red maple leaf is centered in the white square. Overlaid on the leaf is the word "KANADA" in a bold, blue, sans-serif font with a slight drop shadow.

**KANADA**


1. Kanada je redko poseljena država, povprečna gostota znaša 3 prebivalce/km<sup>2</sup>; S del je redko poseljen; večina preb. (90%) živi ob J meji na 10% ozemlja.



## 2. Staroselci so tudi v Kanadi Indijanci ( $\frac{3}{4}$ jih živi v rezervatih) in Inuiti.



Beseda  
eskim  
pomeni  
"človek pes"  
in je za  
Inuite  
žaljivka, zato  
je ne  
uporabljamo!





### 3. Govorijo dva jezika



francoskega

(provinca Quebec)



angleškega

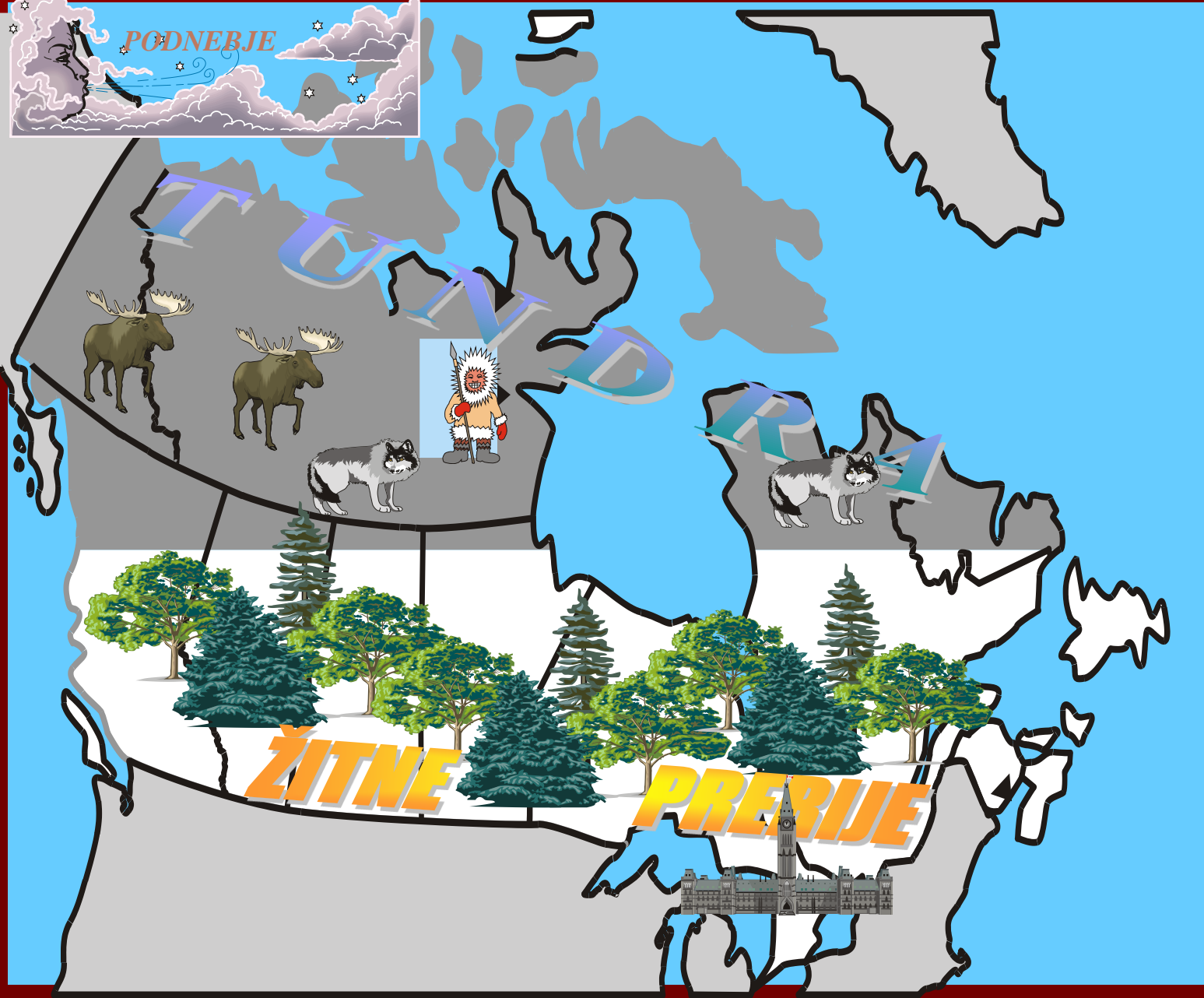
(preostalo prebivalstvo)



Zastava province Quebec

Kanadsko prebivalstvo sestavlja "mozaik" ljudstev – posamezni narodi so ohranili kulturno raznolikost (jezik, običaji, posamezniki); Slovenci so se najbolj množično izseljevali med vojnama, predvsem na območje okoli Velikih jezer .

S  
U  
B  
P  
O  
L  
A  
R  
N  
O  
G  
E  
L  
I  
N  
S  
K  
O





4. Na S raste TUNDRA, v notranjosti rastejo iglasti gozdovi, nižinske obale Velikih jezer so žitnica Kanade.



Karibu v tundri



Žitnica Kanade – se kaj razlikuje od tiste v ZDA?



# GOSPODARSTVO KANADE

1. Kljub neugodnim naravnim razmeram je Kanada prometno dokaj dobro povezana.



## 2. Plovna pot po reki Sv. Lovrenca

Preberi tekst v SDZ str. 92 (rjava podlaga) in analiziraj sliko ter **zapiši pomen plovbe** po reki Sv. Lovrenca za gospodarstvo Kanade in vpliv plovbe in gradnje zapornic na okolje.

3. Na gospodarski karti Angloamerike v atlasu poišči glavna nahajališča rud in nafte. \*Zakaj Kanada svojih nahajališč rud ne izkorišča bolj?

4. Zakaj je Kanada postala ena največjih svetovnih izvoznic lesa in lesnih izdelkov. Katera država ji je v tem pogledu najbolj podobna?

5. Preberi tekst v SDZ str. 91-94 in izpiši, katere industrijske panoge so pomembne za Kanado.

Reši nalogo 40 v SDZ str. 94