

Navodila za delo

Prepišite tekst v pdf-ju,

Na karti pokažite vse pokrajinske enote, rešite Vajo 30/ str. 70 in vajo 31/ str. 71.

Uspešen boš, ko na karti pokažeš in poimenuješ vse pokrajinske enote.

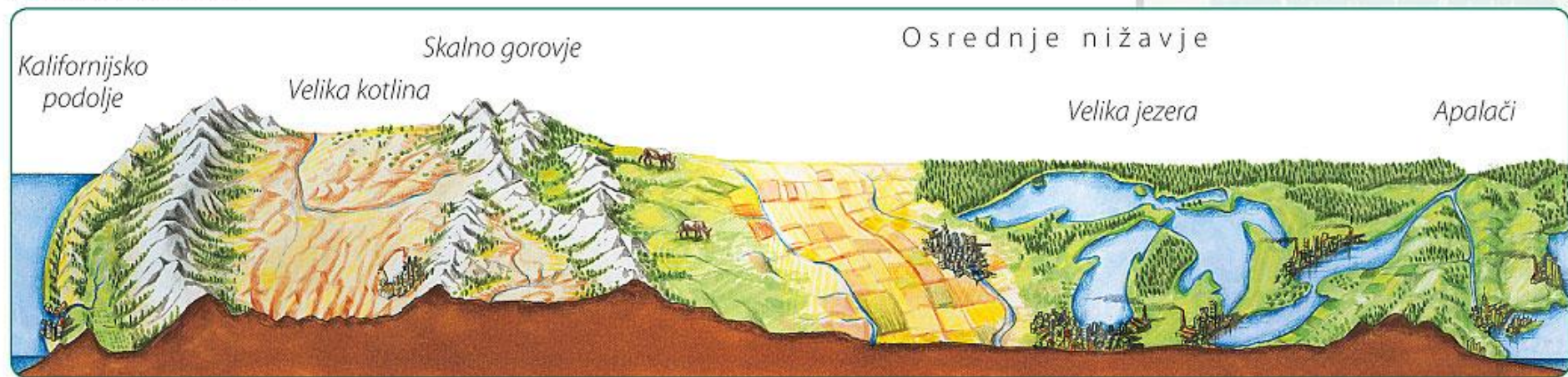


# POVRŠJE ANGLOAMERIKE



1. Leži med Atlantskim in Tihim oceanom, v celoti na S polobli. Tretja največja celina; površje se spreminja na velike razdalje.

© Modrijan založba, d. o. o.




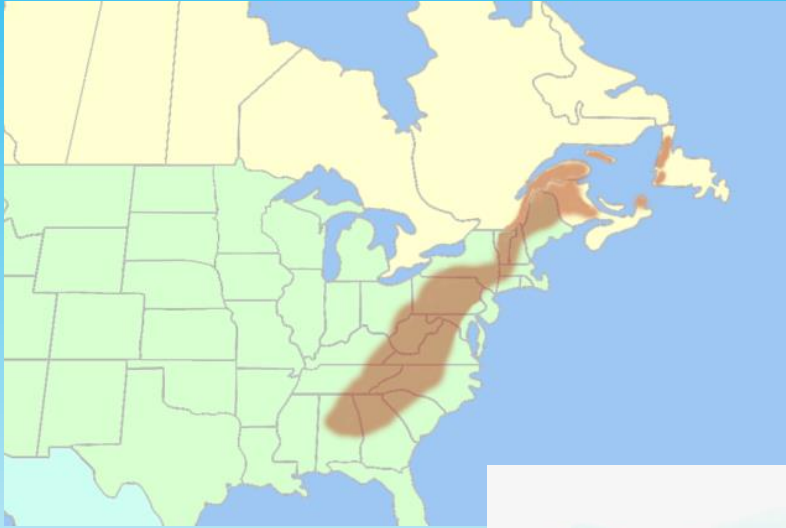
### 3. POVRŠJE – pokrajinske enote:

#### a) mladonagubane Kordiljere

(Rocky Mountains ali Skalno gorovje na Z, Obalno gorovje na V, vmes številne planote in kotline - Velika kotlina z Velikim Slanim jezerom in Dolino smrti)



## b) Apalači (staro uravnano gorovje, poraslo z gozdom)



c) Priatlantsko nižavje (dolgi in ozki zalivi, New York, velika ameriška mesta)



# č) Kanadski ščit, Labrador in Hudsonov zaliv



# d) Grenlandija (notranjost pokrita z ledom, Inuiti)





# e) Kalifornijsko podolje (gospodarsko zelo razvito, Silicijeva dolina – center moderne tehnologije)



# f) Osrednje nižavje

(najpomembnejše kmetijsko območje)



# g) Florida (nižinski polotok, gosto naseljene obale, močvirje v notranjosti)



V torek, 21. 4. 2020, bomo imeli geografijo preko ZOOM konference.

Točno uro in povabilo pošljem na elektronsko pošto.

Zdravi ostanite.